



PAMIĘTAJ!!! Ostateczne rozwiązania zaznacz na karcie odpowiedzi.

1. Do przyrody ożywionej należą:

- a) grzyby       b) rośliny       c) zwierzęta       d) gleba

2. Jaś chce odszukać w terenie kierunek północy. Pomoże mu w tym:

- a) kątomierz       b) kompas       c) gnomon       d) zegarek

3. W którym kierunku od Polski leżą Niemcy?

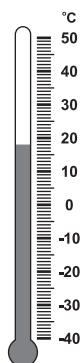
- a) wschodnim       b) zachodnim       c) północnym       d) południowym

4. Do sąsiadów Polski nie należy:

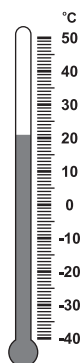
- a) Litwa       b) Rosja       c) Węgry       d) Łotwa

5. O której godzinie było najzimniej?

- a) godz. 7<sup>00</sup>  
 b) godz. 10<sup>00</sup>  
 c) godz. 14<sup>00</sup>  
 d) godz. 18<sup>00</sup>



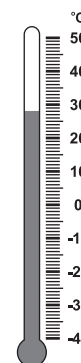
7<sup>00</sup>



10<sup>00</sup>



14<sup>00</sup>



18<sup>00</sup>

6. Woda występuje w:

- a) dwóch stanach skupienia       b) trzech stanach skupienia  
 c) czterech stanach skupienia       d) żadna odpowiedź nie jest prawidłowa

7. Jaś zmierzył temperaturę wody, która zamieniła się w lód i odczytał, że wynosiła:

- a) 3°C       b) 100°C       c) 0°C       d) żadna odpowiedź nie jest prawidłowa

8. Który z przedstawionych opadów wystąpi latem?

- a) rosa       b) deszcz       c) grad       d) mżawka

9. Jakie zjawisko atmosferyczne towarzyszy odwilży?

- a) parowanie       b) ochłodzenie       c) topnienie       d) zamrażanie

10. Do wód słonych należy:

- a) morze       b) rzeka       c) staw       d) strumyk

11. Jakie ptaki zakładają gniazda na polach?

- a) przepiórki       b) szpaki       c) kuropatwy       d) gołębie

12. Dzień Ziemi obchodzimy:

- a) 12 kwietnia       b) 22 kwietnia       c) 6 maja       d) 8 marca

13. Środowiskiem przyrodniczym jest:

- a) przyroda ożywiona       b) przyroda nieożywiona  
 c) drogi, koleje, domy       d) formy terenu

14. Które składniki środowiska przyrody są niezbędne do życia roślin i człowieka?

- a) powietrze i woda       b) światło i ciepło  
 c) sole mineralne i inne składniki pokarmu       d) przestrzeń kosmiczna

15. Z jakiej skały garncarz ulepi dzban?

a) ze żwiru

c) z gliny

b) z piasku

d) żadna odpowiedź nie jest prawidłowa

16. W której warstwie lasu znajdziesz dęby?

a) ściółka

b) runo

c) podszyt

d) wysokie drzewa

17. Do roślin oleistych należy:

a) słonecznik

b) len

c) rzepak

d) rzodkiewka

18. Charakterystycznym elementem krajobrazu nadmorskiego są:

a) wąwozy lessowe

b) skałki wapienne

c) wydmy piaszczyste

d) klify

19. Który krajobraz pasuje do opisu „Tu wieje wiatr halny, rośnie kosodrzewina, po turniach skaczą kozice”:

a) Tatry Wysokie

b) Pojezierze Kaszubskie

c) bałtycka plaża

d) żadna odpowiedź nie jest prawidłowa

20. Młody turysta wybrał się w góry. Na pewno przyda mu się:

a) plecak i kurtka od deszczu

b) mocne górskie buty sięgające do kostek

c) legitymacja szkolna i mapa gór

d) tenisówki i sandały

21. Do jakiej grupy roślin zaliczamy ziemniaki?

a) oleiste

b) lecznicze

c) przemysłowe

d) okopowe

22. Który ze środków transportu jest przyjazny dla środowiska?

a) pociąg

b) rower

c) autobus

d) kajak

23. Produkty szczególnie cenne dla zdrowia, które powinno się jeść najczęściej to:

a) śmietana

b) białe pieczywo

c) ciemny chleb

d) kasza

24. Do której warstwy lasu dociera najmniej słońca?

a) podszyt

b) ściółka

c) runo leśne

d) żadna odpowiedź nie jest prawidłowa

25. Do płazów należy:

a) jaszczurka

b) żaba

c) traszka

d) kumak

26. Najwyższe w Polsce góry to:

a) Sudety

b) Tatry

c) Góry Świętokrzyskie

d) Bieszczady