



1. Do przyrody ożywionej należą:

- a) grzyby b) rośliny c) zwierzęta d) gleba

2. Jaś chce odszukać w terenie kierunek północy. Pomoże mu w tym:

- a) kątomierz b) kompas c) gnomon d) zegarek

3. W którym kierunku od Polski leżą Niemcy?

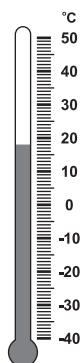
- a) wschodnim b) zachodnim c) północnym d) południowym

4. Do sąsiadów Polski nie należy:

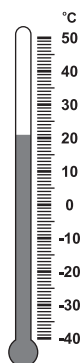
- a) Litwa b) Rosja c) Węgry d) Łotwa

5. O której godzinie było najzimniej?

- a) godz. 7⁰⁰
 b) godz. 10⁰⁰
 c) godz. 14⁰⁰
 d) godz. 18⁰⁰



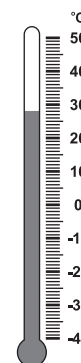
7⁰⁰



10⁰⁰



14⁰⁰



18⁰⁰

6. Woda występuje w:

- a) dwóch stanach skupienia b) trzech stanach skupienia
 c) czterech stanach skupienia d) żadna odpowiedź nie jest prawidłowa

7. Jaś zmierzył temperaturę wody, która zamieniła się w lód i odczytał, że wynosiła:

- a) 3°C b) 100°C c) 0°C d) żadna odpowiedź nie jest prawidłowa

8. Który z przedstawionych opadów wystąpi latem?

- a) rosa b) deszcz c) grad d) mżawka

9. Jakie zjawisko atmosferyczne towarzyszy odwilży?

- a) parowanie b) ochłodzenie c) topnienie d) zamrażanie

10. Do wód słonych należy:

- a) morze b) rzeka c) staw d) strumyk

11. Jakie ptaki zakładają gniazda na polach?

- a) przepiórki b) szpaki c) kuropatwy d) gołębie

12. Dzień Ziemi obchodzimy:

- a) 12 kwietnia b) 22 kwietnia c) 6 maja d) 8 marca

13. Środowiskiem przyrodniczym jest:

- a) przyroda ożywiona b) przyroda nieożywiona
 c) drogi, koleje, domy d) formy terenu

14. Które składniki środowiska przyrody są niezbędne do życia roślin i człowieka?

- a) powietrze i woda b) światło i ciepło
 c) sole mineralne i inne składniki pokarmu d) przestrzeń kosmiczna

15. Z jakiej skały garncarz ulepi dzban?

- a) ze żwiru b) z piasku
 c) z gliny d) żadna odpowiedź nie jest prawidłowa

16. W której warstwie lasu znajdziesz dęby?

- a) ściółka b) runo c) podszyt d) wysokie drzewa

17. Do roślin oleistych należy:

- a) słonecznik b) len c) rzepak d) rzodkiewka

18. Charakterystycznym elementem krajobrazu nadmorskiego są:

- a) wąwozy lessowe b) skałki wapienne c) wydmy piaszczyste d) klify

19. Który krajobraz pasuje do opisu „Tu wieje wiatr halny, rośnie kosodrzewina, po turniach skaczą kozice”:

- a) Tatry Wysokie b) Pojezierze Kaszubskie
 c) bałtycka plaża d) żadna odpowiedź nie jest prawidłowa

20. Młody turysta wybrał się w góry. Na pewno przyda mu się:

- a) plecak i kurtka od deszczu b) mocne górskie buty sięgające do kostek
 c) legitymacja szkolna i mapa gór d) tenisówki i sandały

21. Do jakiej grupy roślin zaliczamy ziemniaki?

- a) oleiste b) lecznicze c) przemysłowe d) okopowe

22. Który ze środków transportu jest przyjazny dla środowiska?

- a) pociąg b) rower c) autobus d) kajak

23. Produkty szczególnie cenne dla zdrowia, które powinno się jeść najczęściej to:

- a) śmietana b) białe pieczywo c) ciemny chleb d) kasza

24. Do której warstwy lasu dociera najmniej słońca?

- a) podszyt b) ściółka
 c) runo leśne d) żadna odpowiedź nie jest prawidłowa

25. Do płazów należy:

- a) jaszczurka b) żaba c) traszka d) kumak

26. Najwyższe w Polsce góry to:

- a) Sudety b) Tatry c) Góry Świętokrzyskie d) Bieszczady