

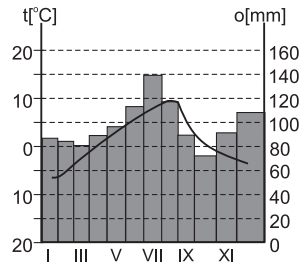


PAMIĘTAJ!!! Ostateczne rozwiązania zaznacz na karcie odpowiedzi.

1. Najlepszą metodą kartograficzną do przedstawienia „miejsce wydobycia surowców energetycznych na świecie” jest metoda:

- A) zasięgow  B) sygnaturowa  C) kartogram  D) kartodiagram

Rysunek do zadań 2 - 6



2. Najzimniejszym miesiącem jest:

- A) grudzień  B) październik  C) styczeń  D) luty

3. Najcieplejszym miesiącem jest:

- A) lipiec ze średnią miesięczną temperaturą ok. 14°C  
 B) lipiec z maksymalną temperaturą w ciągu doby ok. 8°C  
 C) sierpień ze średnią miesięczną temperaturą ok. 8°C  
 D) sierpień z maksymalną dobową temperaturą ok. 10°C

4. Największe opady notowane są:

- A) w sierpniu, ok. 8 mm  B) w lipcu, ok. 140 mm  
 C) w lipcu, ok. 8 mm  D) w lipcu, ok. 15 mm

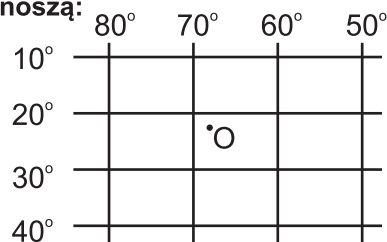
5. Przedstawiony na rysunku klimatogram jest charakterystyczny dla strefy klimatycznej:

- A) podbiegunowej  B) zwrotnikowej  
 C) umiarkowanej ciepłej  D) umiarkowanej chłodnej

6. Roczna amplituda temperatury powietrza wynosi około:

- A) 15°C  B) 3°C  C) - 6°C  D) 9°C

7. Współrzędne geograficzne punktu O wynoszą:

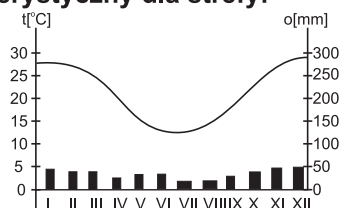


- A) 38°N, 72°E  B) 72°E, 21°S  C) 22°E, 72°S  D) 22°S, 68°W

8. Co łączy Słowenię i Włochy?

- A) krajobraz alpejski  
 B) języki urzędowe należące do tej samej grupy: romańskiej  
 C) zbliżona powierzchnia kraju  
 D) brak dostępu do morza

9. Przedstawiony klimatogram jest charakterystyczny dla strefy:



- A) zwrotnikowej półkuli północnej  B) podbiegunowej półkuli południowej  
 C) zwrotnikowej półkuli południowej  D) podzwrotnikowej półkuli południowej

10. Charakterystyczną roślinnością dla tundry jest:

- A) świerk, modrzew, sosna  B) mech, brzoza karłowata, wierzba lapońska  
 C) baobab, akacja, trawa  D) pinia, oleander, jałowiec

11. Najlepszą metodą kartograficzną do przedstawienia tematu „rozmieszczenie formacji roślinnych na świecie” jest metoda:

- A) izolinii  B) zasięgów  C) kartodiagramu  D) kartogramu

12. Miasto o współrzędnych geograficznych: 13°N, 111°E leży w:

- A) Azji  B) Ameryce Północnej  C) Europie  D) Australii

13. Powierzchnia państwa na mapie w skali 1:40 000 000 zajmuje 62 cm<sup>2</sup>. O które państwo chodzi?

- A) Meksyk  B) Rosja  C) Litwa  D) Kanada

14. Pełne okrążenie Ziemi przez satelitę geostacjonarnego trwa:

- A) 12 godzin  B) 365 dni i 6 godzin  
 C) 24 godziny  D) 28 dni

15. Jakiej szerokości geograficznej dotyczy opis: „na północ od tego równoleżnika Słońce codziennie wschodzi i zachodzi, zaś na południe od niego występuje zjawisko dni i nocy polarnych”?

- A) 66°33'N  B) 90°N  C) 66°33'S  D) 23°27'S

16. Jaka jest rozciągłość równoleżnikowa obszaru o współrzędnych jego krańcowych punktów: (40°S, 135°E); (50°S, 135°E); (45°S, 130°E); (45°S, 150°E)?

- A) 10°  B) 20°  C) 5°  D) 100°

17. Rzeki Rodan i Nil należą do zlewiska oceanu:

- A) Atlantyckiego  B) Indyjskiego  C) Arktycznego  D) Spokojnego

18. Zdanie: „W zależności od podłoża powstaje określony typ gleby” jest przykładem wpływu:

- A) atmosfery na pedosferę  B) pedosfery na litosferę  
 C) litosfery na pedosferę  D) biosfery na pedosferę

19. Poprawnym przykładem przeobrażenia skały osadowej w skałę metamorficzną, jest/są:

- A) gnejsy powstałe z piaskowców  B) gnejsy powstałe z granitów  
 C) piaskowiec powstały z marmuru  D) marmur powstały z wapienia

20. Największe pokłady węgla kamiennego na świecie powstały w erze i okresie:

- A) prekamb, kamb  B) paleozoik, kamb  C) mezozoik, kreda  D) paleozoik, karbon

21. Największym półwyspem w Europie jest półwysp:

- A) Pirenejski  B) Bałkański  C) Skandynawski  D) Apeniński

22. Która nazwa nie dotyczy wyspy w Europie?

- A) Malta  B) Grenlandia  C) Wielka Brytania  D) Islandia

23. Rzeką w Afryce o największej powierzchni dorzecza, płynącą w strefie równikowej, jest:

- A) Nil  B) Niger  C) Kongo  D) Zambezi

24. Afryka leży w strefie klimatów:

- A) równikowych, zwrotnikowych, podzwrotnikowych  
 B) równikowych, podrównikowych  
 C) podrównikowych, zwrotnikowych, umiarkowanych  
 D) równikowych, podzwrotnikowych, umiarkowanych

25. Najwyższy szczyt Arktyki - Góra Gunnbjorna (3700 m n.p.m.), leży na terytorium:

- A) Rosji  B) Kanadzie  C) Szwecji  D) Danii

26. Państwem położonym w Europie, które w ciągu ostatnich 20 lat rozpadło się na największą liczbę nowych europejskich państw była/y:

- A) Niemcy  B) Czechosłowacja  C) Jugosławia  D) Rosja