
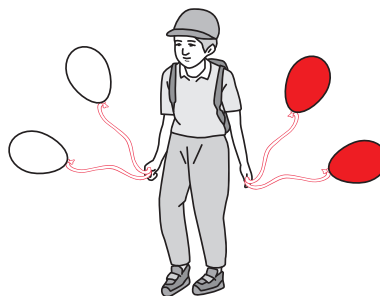


10. Zosia zamierza przejść przez jezdnię. Ponumeruj czynności jakie powinna wykonać, aby bezpiecznie przejść na drugą stronę jezdni.

- 1 2 3 4 5 Patrz w lewo.
 1 2 3 4 5 Patrz w prawo.
 1 2 3 4 5 Zatrzymaj się.
 1 2 3 4 5 Idź.
 1 2 3 4 5 Jeszcze raz popatrz w lewo.


11. Zamaluj balony, które chłopiec trzyma w swojej lewej ręce.



12. Przyporządkuj wyrazy do odpowiednich grup. Zamaluj przy każdej grupie literkę przypisaną do danych wyrazów.

- | | | | | | |
|----------------|------------------------------------|------------------------------------|------------------------------------|------------------------------------|--|
| Nazwy osób | <input type="radio"/> a | <input checked="" type="radio"/> b | <input type="radio"/> c | <input type="radio"/> d | <div style="background-color: #e91e63; color: white; padding: 5px;"> a) bratek, brzoza b) malarz, sportowiec c) mysz, królik d) pióro, telefon </div> |
| Nazwy zwierząt | <input type="radio"/> a | <input type="radio"/> b | <input checked="" type="radio"/> c | <input type="radio"/> d | |
| Nazwy roślin | <input checked="" type="radio"/> a | <input type="radio"/> b | <input type="radio"/> c | <input type="radio"/> d | |
| Nazwy rzeczy | <input type="radio"/> a | <input type="radio"/> b | <input type="radio"/> c | <input checked="" type="radio"/> d | |

13. Spośród narysowanych biedronek tylko dwie są takie same. Znajdź je i zamaluj im brzuszki.



14. Dopasuj nazwę pory roku do jej opisu. Zamaluj odpowiednie kółeczka.

- a) Z drzew spadają kolorowe liście i brązowe kasztany.
 b) Ziemia pokryta jest białym puchem, a wody są skute lodem.
 c) Rośliny budzą się do życia. Drzewa puszczejają pąki i zazielenia się trawa.
 d) Dojrzewają owoce drzew. Temperatura powietrza jest wysoka.

- Wiosna a b c d
 Jesień a b c d
 Zima a b c d
 Lato a b c d

15. Zamaluj kółeczko przy przedmiotach, które przyciąga magnes.




16. Ile liter „z” widzisz w poniższym rządku?

z z l o s l o y h e j e z x i m z n e r z z z z l z e u

W rządku widzę 7 8 9 10 liter „z”.

17. Odszukaj na rysunku figury geometryczne i policz je. Wynik zaznacz zamalowując odpowiednią liczbę.

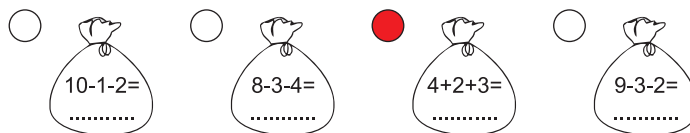
- 6 7 8 9
 1 2 3 4
 1 2 3 4
 1 13 14 15



18. Uzupełnij liczby w piramidzie dodając pary liczb.



19. Oblicz, ile prezentów jest w każdym z worków. Zamaluj kółeczko przy worku z największą liczbą prezentów.



20. Sprawdź, które zdanie jest prawdziwe, a które błędne. Zamaluj odpowiednie kółeczko.

1. Liczba 15 jest większa od liczby 13.
 2. Liczba 7 jest mniejsza od 8, ale większa do 6.
 3. Gdy od liczby 9 odejmę 3, to wynikiem będzie 7.

| | |
|----------------------------------|----------------------------------|
| TAK | NIE |
| <input checked="" type="radio"/> | <input type="radio"/> |
| <input checked="" type="radio"/> | <input type="radio"/> |
| <input type="radio"/> | <input checked="" type="radio"/> |

21. Dzieci z klas pierwszych zbierały makulaturę. Klasa 1a zebrała 2 kg makulatury, 1b 5 kg makulatury, a klasa 1c 3 kg.

Ile kg makulatury zebrały?

Odpowiedź:

- 1a i 1b

| | | | | | | | | | |
|--|--|--|--|--|--|--|--|--|--|
| | | | | | | | | | |
|--|--|--|--|--|--|--|--|--|--|

 2 5 7 8
 1b i 1c

| | | | | | | | | | |
|--|--|--|--|--|--|--|--|--|--|
| | | | | | | | | | |
|--|--|--|--|--|--|--|--|--|--|

 2 5 7 8
 1a i 1b i 1c

| | | | | | | | | | |
|--|--|--|--|--|--|--|--|--|--|
| | | | | | | | | | |
|--|--|--|--|--|--|--|--|--|--|

 2 3 8 10